

1 つぎの けいさんを しましょう。

(1)  $3 + 6$

(2)  $11 + 4$

(3)  $7 + 0$

2 つぎの けいさんを しましょう。

(1)  $8 - 4$

(2)  $10 - 5$

(3)  $9 - 0$

※つぎのページにも、もんだいがあります。

3 つぎの けいさんを しましょう。

(1)  $9 + 6$

(2)  $8 + 8$

(3)  $19 - 5$

4 つぎの けいさんを しましょう。

(1)  $5 + 3 + 2$

(2)  $17 - 4 - 1$

(3)  $10 - 3 + 8$

1

つぎの けいさんを しましょう。

(1)  $3 + 1$

(2)  $5 + 1$

(3)  $6 + 2$

(4)  $9 + 0$

2

つぎの けいさんを しましょう。

(1)  $4 - 1$

(2)  $8 - 3$

(3)  $10 - 2$

(4)  $7 - 0$

3

つぎの けいさんを しましょう。

(1)  $10 + 6$

(2)  $11 + 5$

(3)  $13 + 4$

(4)  $12 + 7$

(5)  $15 + 3$

(6)  $17 + 2$

※つぎのページにも、もんだいがあります。

4 つぎの けいさんを しましょう。

(1)  $9 + 2$

(2)  $8 + 6$

(3)  $5 + 8$

(4)  $4 + 9$

(5)  $8 + 9$

(6)  $7 + 7$

5 つぎの けいさんを しましょう。

(1)  $10 - 7$

(2)  $17 - 4$

(3)  $18 - 5$

(4)  $19 - 6$

(5)  $17 - 6$

(6)  $18 - 8$

6 つぎの けいさんを しましょう。

(1)  $4 + 2 + 3$

(2)  $8 - 3 - 2$

(3)  $9 - 4 + 3$

(4)  $10 - 7 + 5$

30問中

ふゆやすみばん③ くみ ばん なまえ

1  に あてはまる かずを かきましょう。

(1) 7 と 3 で  (2) 6 と  で 16

(3)  と 10 で 15 (4) 10 と 10 で

(5)  3  4  5   7  8

(6)  17  16   14  13  12

(7)  4   8  10  12

2 つぎの けいさんを しましょう。

(1)  $5 + 5$

(2)  $6 + 4$

(3)  $9 + 3$

(4)  $8 + 5$

(5)  $7 + 6$

(6)  $3 + 8$

(7)  $5 + 9$

(8)  $9 + 7$

(9)  $8 + 8$

(10)  $9 + 9$

※つぎのページにも、もんだいがあります。

(11)  $2 + 3 + 4$

(12)  $6 + 4 + 5$

(13)  $9 - 4 - 3$

(14)  $16 - 2 - 3$

(15)  $10 - 4 + 3$

(16)  $18 - 8 + 7$

3

つぎの もんだいに こたえましょう。



(1) きんぎょを 3びき かって います。

8びき もらいました。

きんぎょは ぜんぶで なんびきに なりますか。


しき

こたえ

(2) しろねこが 7びき います。

くろねこが 6びき います。

あわせて なんびき いますか。



しき

こたえ

(3) いちごが 10こ ありました。

ゆうまさんが 5こ たべました。

ゆみさんが 3こ たべました。

いちごは なんこ のこりましたか。

1つの しきに かきましょう。



しき

こたえ

30問中

**【5かどがチリッが入る】** しょうがっこうさんすう だい1がくねん

ふゆやすみばん① じどうようかいとう (こたえ)

1 つぎの けいさんを しましょう。

(1)  $3 + 6 = 9$



(2)  $11 + 4 = 15$



<けいさんのしかた>

- ① 11を10と1にわけます。
- ② 10はそのままで1のくらのけいさんをします。1+4は5です。
- ③ 10と5をたして15になります。

(3)  $7 + 0 = 7$



2 つぎの けいさんを しましょう。

(1)  $8 - 4 = 4$



(2)  $10 - 5 = 5$



(3)  $9 - 0 = 9$



●が8こあります。4ことると、のこりは4こになります。

※つぎのページにも、もんだいがあります。

3

つぎの けいさんを しましょう。

(1)  $9 + 6 = 15$

<けいさんのしかた>

- ① 6を1と5にわけます。
- ② 9と1をたして10です。
- ③ 10と5をたして15になります。

(2)  $8 + 8 = 16$

(3)  $19 - 5 = 14$

4

つぎの けいさんを しましょう。

(1)  $5 + 3 + 2 = 10$

(2)  $17 - 4 - 1 = 12$

<けいさんのしかた>

- まえからじゆんばんにけいさんします。
- ①  $17 - 4$ は13です。
- ②  $13 - 1$ は12です。

(3)  $10 - 3 + 8 = 15$

<けいさんのしかた>

- まえからじゆんばんにけいさんします。
- ①  $10 - 3$ は7です。
- ②  $7 + 8$ は15です。

ふゆやすみばん② じどうようかいとう (こたえ)

1 つぎの けいさんを しましょう。

(1)  $3 + 1 = 4$

(2)  $5 + 1 = 6$

(3)  $6 + 2 = 8$

(4)  $9 + 0 = 9$

2 つぎの けいさんを しましょう。

(1)  $4 - 1 = 3$

(2)  $8 - 3 = 5$

(3)  $10 - 2 = 8$

(4)  $7 - 0 = 7$

3 つぎの けいさんを しましょう。

(1)  $10 + 6 = 16$

(2)  $11 + 5 = 16$

(3)  $13 + 4 = 17$

(4)  $12 + 7 = 19$

(5)  $15 + 3 = 18$

(6)  $17 + 2 = 19$

<けいさんのしかた>  
 ① 11を10と1にわけます。  
 ② 10はそのままで1のくわいのけいさんをします。  
 ③ 10と6をたして16になります。

4 つぎの けいさんを しましょう。

(1)  $9 + 2 = 11$

(2)  $8 + 6 = 14$

(3)  $5 + 8 = 13$

(4)  $4 + 9 = 13$

(5)  $8 + 9 = 17$

(6)  $7 + 7 = 14$

<けいさんのしかた>  
 ① 6を2と4にわけます。  
 ② 8と2をたして10です。  
 ③ 10と4をたして14になります。

5 つぎの けいさんを しましょう。

(1)  $10 - 7 = 3$

(2)  $17 - 4 = 13$

(3)  $18 - 5 = 13$

(4)  $19 - 6 = 13$

(5)  $17 - 6 = 11$

(6)  $18 - 8 = 10$

6 つぎの けいさんを しましょう。

(1)  $4 + 2 + 3 = 9$

(2)  $8 - 3 - 2 = 3$

(3)  $9 - 4 + 3 = 8$

(4)  $10 - 7 + 5 = 8$

<けいさんのしかた>  
 まえからじゆんばんにけいさんをします。  
 ① 8-3は5です。  
 ② 5-2は3です。

<けいさんのしかた>  
 まえからじゆんばんにけいさんをします。  
 ① 9-4は5です。  
 ② 5+3は8です。



**ほっかいどうやっぴん** しょうがっこうさんすう だいがくねん  
**ふゆやすみばん③** じどうようかいとう (こたえ)

- 1 □ に あてはまる かずを かきましよう。
- (1) 7 と 3 で **10** (2) 6 と **10** で 16  
 (3) **5** と 10 で 15 (4) 10 と 10 で **20**  
 (5) **3** - **4** - **5** - **6** - **7** - **8** 1ずつ ふえて います。  
 (6) **17** - **16** - **15** - **14** - **13** - **12** 1ずつ へって います。  
 (7) **4** - **6** - **8** - **10** - **12** - **14** 2ずつ ふえて います。

- 2 つぎの けいさんを しましよう。
- (1)  $5 + 5 = 10$  (2)  $6 + 4 = 10$   
 (3)  $9 + 3 = 12$  (4)  $8 + 5 = 13$   
 (5)  $7 + 6 = 13$  (6)  $3 + 8 = 11$   
 (7)  $5 + 9 = 14$  (8)  $9 + 7 = 16$   
 (9)  $8 + 8 = 16$  (10)  $9 + 9 = 18$


※つぎのページにも、もんだいがあります。

- (11)  $2 + 3 + 4 = 9$  (12)  $6 + 4 + 5 = 15$   
 (13)  $9 - 4 - 3 = 2$  (14)  $16 - 2 - 3 = 11$   
 (15)  $10 - 4 + 3 = 9$  (16)  $18 - 8 + 7 = 17$

3 つぎの もんだいに こたえましよう。


(1) きんぎょを 3びき かって います。  
 8ひき もらいました。  
 きんぎょは ぜんぶで なんびきに なりますか。

しき 3 + 8 こたえ 11びき



(2) くらねこが 7ひき います。  
 しろねこが 6ひき います。  
 あわせて なんびき いますか。

しき 7 + 6 こたえ 13びき



(3) いちごが 10こ ありました。  
 ゆうまさんが 5こ たべました。  
 ゆみさんが 3こ たべました。  
 いちごは なんこ のこりましたか。  
 1つの しきに かきましよう。

しき 10 - 5 - 3 こたえ 2こ

